

Г 5А 28

**ТИТУЛЬНЫЙ ЛИСТ**

Красноярский край

Всероссийская олимпиада школьников 2024-2025 учебный год

Школьный этап.

Предмет ГЕОГРАФИЯ

Шифр участника \_\_\_\_\_

Фамилия \_\_\_\_\_

Имя \_\_\_\_\_

Отчество \_\_\_\_\_

Класс \_ \_\_\_\_\_

Сокращенное наименование образовательной организации (школы)

\_\_\_\_\_

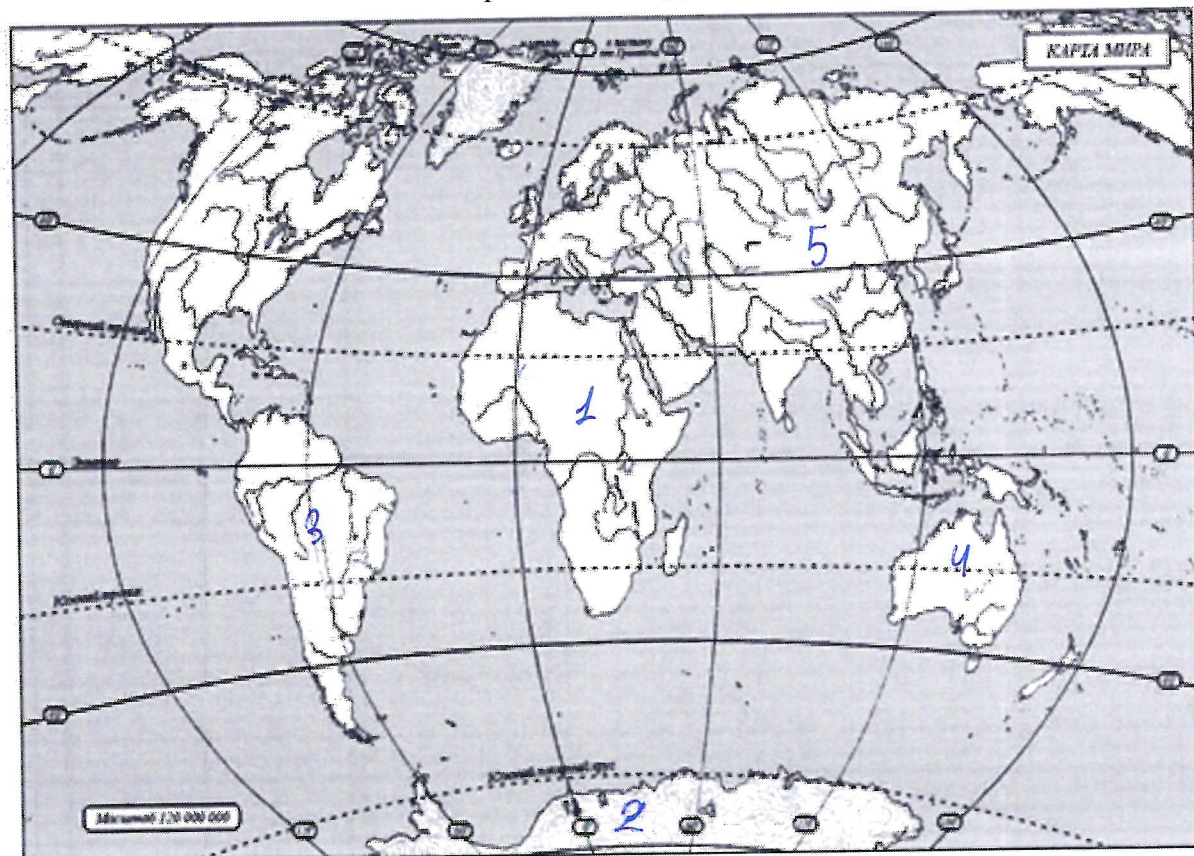
№ задания	Максимальные баллы за каждое задание	Баллы, полученные участником
Тестовый тур	15	13
Практический тур	5	5
Итого	20	18

180

Всероссийская олимпиада школьников 2024-2025 учебный год  
Школьный этап. География, 5 класс,  
Время выполнения 45 мин. Максимальное кол-во баллов – 20  
БЛАНК ОТВЕТОВ

№ задания	Ответ	Кол-во баллов	№ задания	Ответ	Кол-во баллов
1	A	1	9	б	1
2	погода	1	10	б	
3	б	1	11	2	1
4	A	1	12	б	1
5	б		13	A	1
6	1см	1	14	б	1
7	б	1	15	б	1
8	A	1			
Всего баллов					

Практический тур



58

Г6Т 188

**ТИТУЛЬНЫЙ ЛИСТ**  
Красноярский край  
Всероссийская олимпиада школьников 2024-2025 учебный год  
Школьный этап.

Предмет ГЕОГРАФИЯ

Шифр участника \_\_\_\_\_

Фамилия \_\_\_\_\_

Имя \_\_\_\_\_

Отчество \_\_\_\_\_

Класс \_\_\_\_\_

Сокращенное наименование образовательной организации (школы) : МБОУ СШ №79

Всероссийская олимпиада школьников 2024-2025 учебный год  
Школьный этап. География, **6 КЛАССЫ**  
Время выполнения 45 мин. Максимальное количество баллов – 31

**БЛАНК ОТВЕТОВ**  
**Тестовый тур**

№ задания	Ответ	Кол-во баллов	№ задания	Ответ	Кол-во баллов
1	б)	1	9	б)	1
2	г)	1	10	в)	1
3	б)		11	Северо-ледовитый океан	1
4	в)		12	в)	
5	СФВУ		13	б)	1
6	в)	1	14	а)	1
7	г)	1	15	а)	
8	а)	1			
Всего баллов					10

Практический тур

Задание 1. Максимальное количество баллов – 10.

1) Подпишите условные обозначения плана местности, обозначенные цифрами

Цифра	Название
1	железнодорожная дорога
2	канал
3	озеро
4	зона вертолёта
5	леса
6	пале

2) Что производит завод, изображенный на плане? Шумов

3) Какой тип дороги соединяет железнодорожную станцию с домиком лесника?

автомобильная <sup>ой</sup> дорога

4) Какой тип моста соединяет автомобильную дорогу?

железнодорожный с автомобильной дорогой

Задание 2. Максимальное количество баллов – 6 баллов.

- Самый пустынный материк (без учета снежных пустынь Антарктиды).
- Материк с самой большой численностью населения.
- Материк, не имеющий коренного населения.
- Материк – колыбель человечества.
- Материк, где расположен самый высокий водопад в мире.
- Материк, где расположен самый большой в мире речной каньон.

№	Материк
1	Австралия 1
2	Евразия 1
3	Антарктида 1
4	Вост.-Африка 1
5	Южная-Америка 1
6	<del>Южная</del> Северная-Америка 1

ГКЗ  
215

**ТИТУЛЬНЫЙ ЛИСТ**  
Красноярский край  
Всероссийская олимпиада школьников 2024-2025 учебный год  
Школьный этап.

Предмет ГЕОГРАФИЯ

Шифр участника \_\_\_\_\_

Фамилия \_\_\_\_\_

Имя \_\_\_\_\_

Отчество \_\_\_\_\_

Класс \_\_\_\_\_

Сокращенное наименование образовательной организации МБОУ СШ 79

Всероссийская олимпиада школьников 2024-2025 учебный год  
Школьный этап. География, 7 класс  
Время выполнения 60 мин. Максимальное кол-во баллов – 38  
**БЛАНК ОТВЕТОВ**

**Тестовый тур**

№ задания	Ответ	Кол-во баллов	№ задания	Ответ	Кол-во баллов
1	B	1	10	A1	1
2	T	—	11	A, B1, D1, T	1
3	A, T, D, B	—	12	D	1
4	D	—	13	1: 27120000	1
5	B	1	14	B1	—
6	D, A, B, T	—	15	B	—
7	T	—	16	A1	1
8	1) A; 2) T; 3) D; 4) B.	—	17	T	—
9	T	1	18	A	1
Всего баллов					86

**Практический тур**

Задание № 1.

88





Матрица ответов











1	3)	2	3	4	5	6	7	8	9	10
<del>Буржуй</del>	В)	Х)	К)	<del>Висер</del>	<del>гитрометр</del>	Е)	Д)	<del>создаёт</del>	У)	<del>Углекислотный</del>
+	+	+	+	+	+	+	+	+	+	+

Задание № 2.

58

Вставьте недостающую информацию о географических приборах в соответствующую колонку. Максимальное количество баллов, которое можно набрать – 10.

Прибор	Название	Для чего служит?
1. 	Барометр	Для измерения давления
2. 	Курвиметр	
3. 		Прибор для наглядной демонстрации годового движения Земли вокруг Солнца и суточного вращения Земли вокруг своей оси.
4. 	Гигрометр психрометрический	

<p>5.</p> 	<p>Флюгер</p> 	<p>Прибор для измерения направления ветра.</p>
<p>6.</p> 	<p>Осадкомер</p>	<p>показывает кол-во выпавших осадков</p> 
<p>7.</p> 		<p>Прибор для измерения скорости ветра.</p>
<p>8.</p> 	<p>Сейсмограф</p>	<p>записывает подземные колебания</p> 
<p>9.</p> 	<p>Компас</p> 	<p>Прибор, предназначенный для определения сторон горизонта и состоящий из намагниченной стрелки, всегда показывающей на север.</p>
<p>10.</p> 	<p>Лазерный дальномер</p>	<p>измеряет расстояние</p>

1 29  
598

# ТИТУЛЬНЫЙ ЛИСТ

Красноярский край  
Всероссийская олимпиада школьников 2024-2025 учебный год  
Школьный этап.

Предмет ГЕОГРАФИЯ

Шифр участника \_\_\_\_\_

Фамилия \_\_\_\_\_

Имя \_\_\_\_\_

Отчество \_\_\_\_\_

Класс \_\_\_\_\_

Сокращенное наименование образовательной организации (школы) МБОУ СШ №79

Всероссийская олимпиада школьников 2024-25 учебный год

Школьный этап. География, 9 класс,

Время выполнения 90 мин. Максимальное кол-во баллов – 60

## БЛАНК ОТВЕТОВ

### Тестовый тур

№ задания	Ответ	Кол-во баллов	№ задания	Ответ	Кол-во баллов
1	Б	1	11	Б, Г	1
2	А	—	12	А	1
3	Г	1	13	Г	1
4	А	—	14	А	1
5	Г, В	1	15	В	—
6	В	1	16	А, Г	—
7	Б	1	17	В	1
8	А-5, Б-6, В-1 Г-4, Д-3, Е-2.	1	18	Б	1
9	дождьное лето.	1	19	Б	1
10	В	1	20	Г	1
ИТОГО					

165

### Практический тур

Задание 1.

Ответы:

- 1) 5 летнее.
- 2) ≈ 1500.
- 3) 1954.

68



Максимальное число баллов за задание - 6

Задание 2.

8

Ответы:

- 1) 42
- 2) 800 км.
- 3) 3 - Белоруссия.  
7 - Ламбиа.  
8 - Ламбиа.  
14 - 800 км.

Максимальное число баллов за задание - 8

Задание 3.

За каждый правильный ответ по 2 балла

10

1.	Озеро Бранденбургское	25
2.	Лангедок	25
3.	оз. Байгал	25
4.	Заповедник "Баян-Улус"	25
5.	Экологический парк	25

Максимальное число баллов за задание - 10

Задание 4.

14

№	На каком материке обитают эти животные (0,5 балла)	Какое место занимает этот материк по площади среди материков (0,5 балла)	В каком полушарии находится это материк (по 0,5 за каждое)	В каких климатических поясах материк расположен (по 0,5 за каждый правильный ответ).	Всего баллов
1	Северная Америка	3	В северном и западном полушарии	субарктический, умеренный, субтропический	
2	Южная Америка	4	В западном полушарии	экваториальный, субэкваториальный, тропический, субтропический	
3	Евразия	1	В северном	арктический, субарктический, тропический, субтропический, экваториальный, субэкваториальный	

Максимальное число баллов за задание - 16

Г 11М

**ТИТУЛЬНЫЙ ЛИСТ**  
Красноярский край  
Всероссийская олимпиада школьников 2024-2025 учебный год  
Школьный этап.

Предмет География

Шифр участника \_\_\_\_\_

Фамилия \_\_\_\_\_

Имя \_\_\_\_\_

Отчество \_\_\_\_\_

Класс 11

Сокращенное наименование образовательной организации (школы) МБОУ СШ №79

№ задания	Максимальные баллы за каждое задание	Баллы, полученные участником
Тестовый тур	20	16
Практический тур		
1	10	10
2	10	7
3	10	3
4	10	10
Итого	60	45

Всероссийская олимпиада школьников 2024-2025 учебный год  
Школьный этап. География, 10-11 класс, задания  
Время выполнения 90 мин. Максимальное кол-во баллов – 60

**Бланк ответов  
Тестовый тур**

**Матрица ответов**

№ задания	Ответ	Кол-во баллов	№ задания	Ответ	Кол-во баллов
1	Б	—	11	В	1
2	Польша В	1	12	Ислам	1
3	АГБВ	1	13	В	1
4	43761	1	14	2364	—
5	Г	1	15	В	1
6	Енисей	1	16	Эльбрус	1
7	3241	1	17	озеро Виви	1
8		—	18	норвежский капитал	1
9	Г	—	19	Тайга	1
10	Ключевская сопка	1	20	31425	1
	Всего				

**Практический тур**

**Задание 1.**

Определите туристический объект, его название и страну, в которой он находится. Запишите название туристического объекта и страну его нахождения.

**Максимальное количество баллов – 10 баллов.**

Туристический объект	Название туристического объекта	Страна нахождения туристического объекта	Количество баллов
1. 1	Москва	Чили	1
2. 1	Кремль Василия Блаженного	Москва России, Москва	1
3. 1	Фуцзинь	Япония	1
4. 1	Великая Китайская стена	Китай	1
5. 1	Карнавал	Бразилия	1

**Задание 2. Определите географический район по его характеристике.**

**Максимальное количество баллов – 10.**

№	Вопрос	Ответы	Кол-во баллов
1.	Назовите географический район	Европейский юг	2
2.	Какие два края входят в состав района?	Краснодарский край Ставропольский край	2
3.	Назовите город федерального значения	Новороссийск	—
4.	Назовите отрасли специализации района	Сельское хозяйство	1
5.	Назовите крупные города района	Советск, Краснодар, Новороссийск	2

### Задание 3.

Рассчитайте ресурсообеспеченность стран. Используя данные из приведённой ниже таблицы, сравните ресурсообеспеченность стран пресной водой. Расположите страны в порядке уменьшения в них показателя ресурсообеспеченности пресной водой на душу населения, начиная со страны с наибольшим показателем.

**Максимальное количество баллов – 10 баллов.**

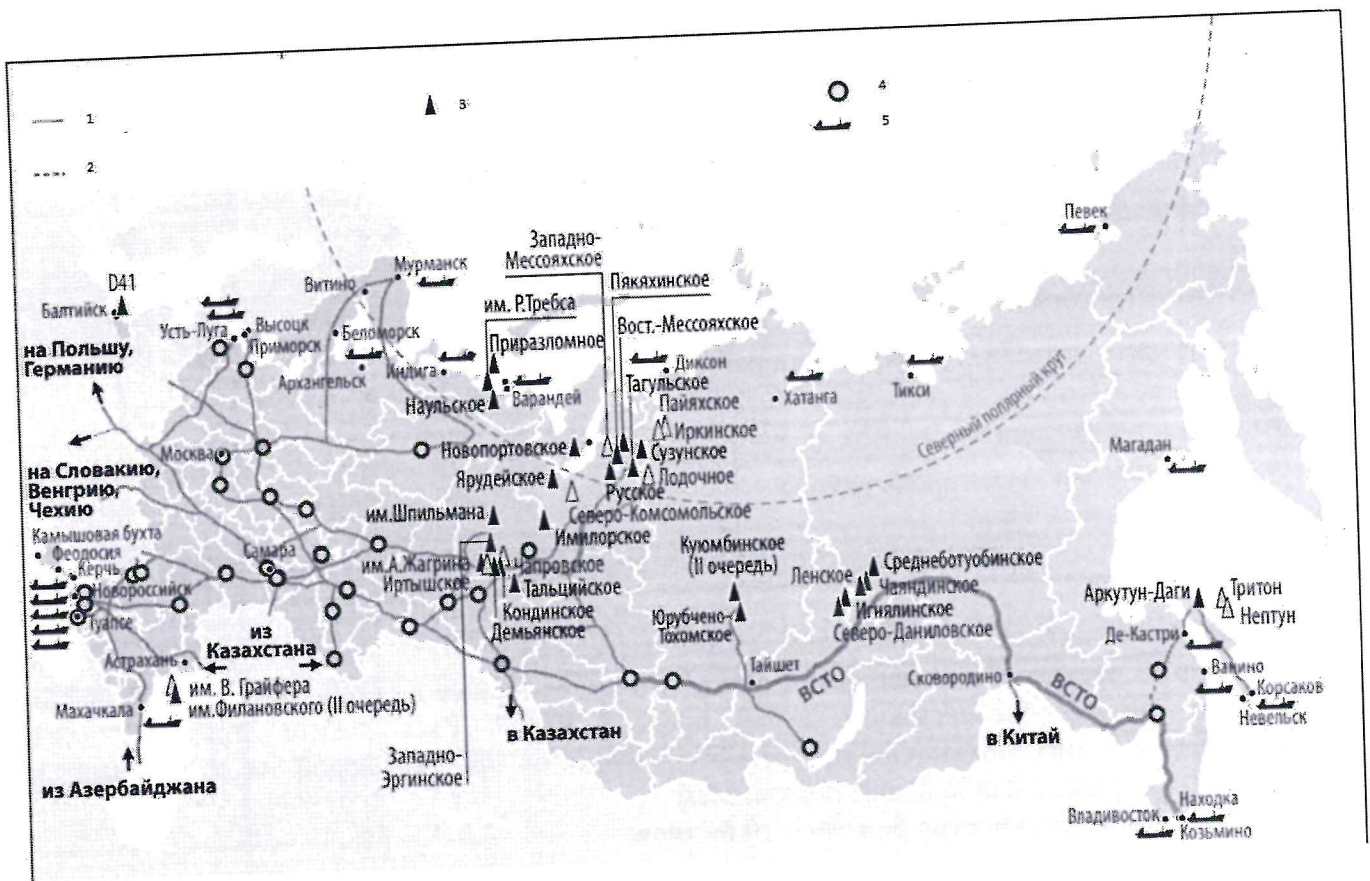
Расположите страны в порядке уменьшения в них показателя ресурсообеспеченности пресной водой на душу населения, начиная со страны с наибольшим показателем.

№	Страна	Ресурсообеспеченность
1.	Российская Федерация	
2.	Индия	
3.	Канада	
4.	Вьетнам	
5.	Монголия	

### Задание 4.

Перед вами карта. Ответьте на вопросы, используя данную карту.

**Максимальное количество баллов – 10 баллов.**



1) Напишите название карты

*Территориальные пути нефти. Топливной промышленности.*

*18*

2) Напишите название условных обозначений в легенде карты

Цифра	Название
1	<i>Узкоколейные дороги</i>
2	<i>Полевые и лесные дороги</i>
3	<i>Нефть</i>
4	<i>Завод</i>
5	<i>Морской порт</i>

*58*

3) Какими видами транспортировки можно перевозить данный продукт

*Вагоны, железнодорожные цистерны, нефтепровод, водной транспорт.*

*30*

4) Назовите географический район – лидер по добыче данного ресурса

*Ханты-Мансийский автономный округ.*

*18*